



MINISTERO DELLA DIFESA

DIREZIONE GENERALE PER IL PERSONALE MILITARE

**CONCORSO, PER ESAMI, PER L'AMMISSIONE DI COMPLESSIVI 65 GIOVANI AI LICEI ANNESSI ALLA SCUOLA NAVALE MILITARE "FRANCESCO MOROSINI" PER L'ANNO SCOLASTICO 2024-2025, INDETTO CON DECRETO DIRIGENZIALE N. M_D AB05933 REG2024 0194415 DEL 26 MARZO 2024, PUBBLICATO SUL PORTALE UNICO DEL RECLUTAMENTO IN DATA 02 APRILE 2024 E SUL PORTALE DEI CONCORSI ON-LINE DELLA DIFESA IN DATA 03 APRILE 2024.
PROVA PRELIMINARE DI CUI ALL'ART. 8, COMMA 1, LETTERA B.**

AVVISO

1. Si comunica ai concorrenti interessati che sono disponibili alcuni esempi della stessa tipologia di esercizi logico-deduttivi che saranno impiegati nella prova preliminare, di cui all'art. 8, comma 1, lettera b del bando.
2. **Il presente avviso ha valore di notifica a tutti gli effetti e per tutti i concorrenti.**
3. Altresì, si comunica che il presente avviso, a mero fine informativo, verrà pubblicato anche sul portale unico del reclutamento (www.inpa.gov.it).

Roma, 05 Aprile 2024

Firmato
IL DIRIGENTE RESPONSABILE



MARINA MILITARE
CENTRO DI SELEZIONE
Ancona

CONCORSO SCUOLA NAVALE MILITARE “F. MOROSINI” 2024

ESEMPI DEGLI ESERCIZI LOGICO-DEDUTTIVI DELLA PROVA PRELIMINARE
(l'opzione di risposta esatta è quella sottolineata)

Interpretazione numerica

I quesiti sono composti da numeri posti in serie. Da ogni serie è stato omesso un numero. Occorre individuare il criterio logico-matematico in base al quale la serie è stata costruita e trovare tra le alternative di risposta preposte, il numero che la completa correttamente. **Attenzione:** la serie numerica può essere lineare, “a salto”, concatenata, a coppie, ecc., in funzione del criterio che ordina i numeri che la compongono.

Esempio 1)

	13	169	5	25	7	?
a)		b)	c)	d)	e)	f)
46		38	<u>49</u>	37	39	44

Esempio 2)

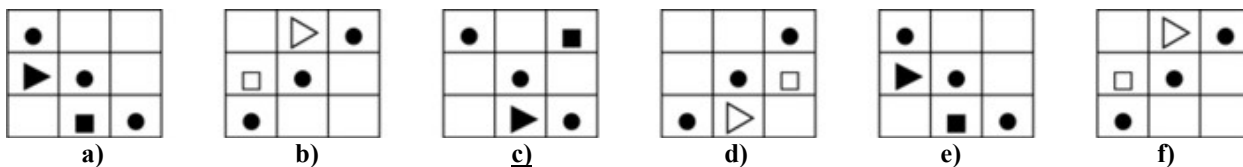
	100	104	?	109	110
a)	b)	c)	d)	e)	f)
103	101	102	100	<u>107</u>	104

Logico puro

I quesiti sono composti da figure poste in serie che, al loro interno, contengono simboli o quadranti di colore diverso (bianco e nero). Il vostro compito consiste nell'individuare il criterio che lega le figure e trovare quale di queste non rispetta il criterio stabilito.

Quale figura non rispetta la sequenza logica che lega tra loro le figure presentate?

Esempio 1)



Esempio 2)

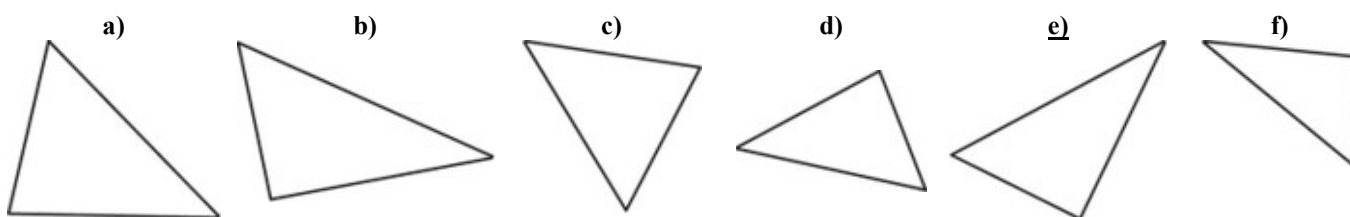
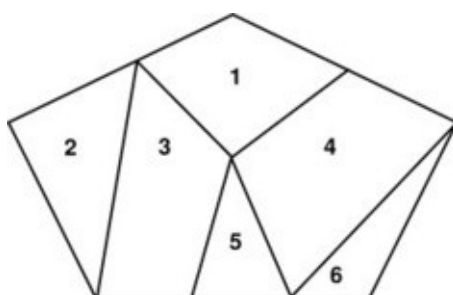


Spaziale

Viene presentata una figura geometrica suddivisa in figure numerate; il vostro compito consiste nell'individuare quale, tra le alternative presentate, è uguale alla figura oggetto di ogni quesito. **Attenzione:** le figure proposte nelle alternative possono essere ruotate rispetto alla posizione originaria.

Esempio 1)

Quale tra le alternative proposte è uguale alla figura 2?



Esempio 2)

Quale tra le alternative proposte è uguale alla figura 5?

